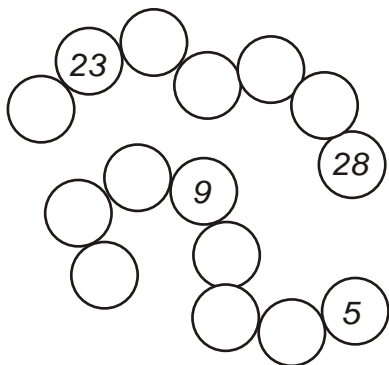


Die kreativen

4



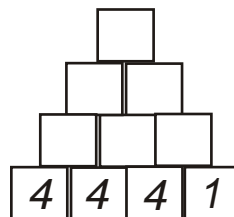
1. Die Perlenkette ist zerrissen!
Trage die fehlenden Zahlen ein
und markiere die **4er-Zahlen**
gelb!



22 40 12 9 28
34 8 44 16
18 36 27 99 32

3. Kreise die 4er-Einmaleins-
zahlen **rot** ein!

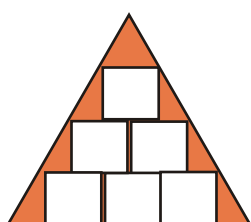
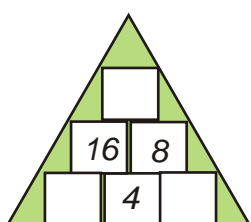
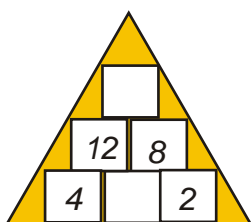
2. Der obere Stein ist die
Summe der beiden unteren!



5. Eine Klasse hat 24 Schüler.
Der Lehrer teilt sie in je 4
Schüler auf. Wie viel Gruppen
gibt es?

Rechnung: _____

Antwort: _____



4. Ergänze die zwei 1x1-Pyramiden und denke dir für die
dritte Pyramide selbst passende Zahlen aus!

$4 \times \square = 28$
 $32 : \square = 8$
 $\square \times 4 = 16$
 $\square : 4 = 10$

6. Aufgabe

$12 : 3 = \underline{\quad}$, denn $3 \times \underline{\quad} = 12$

$24 : 4 = \underline{\quad}$, denn $\underline{\quad} \times \underline{\quad} = 24$

$16 : 4 = \underline{\quad}$, denn $\underline{\quad} \times \underline{\quad} = \underline{\quad}$

$28 : 4 = \underline{\quad}$, denn $\underline{\quad} \times \underline{\quad} = \underline{\quad}$

7. Aufgabe

Wie viel Ecken haben ...

2 Vierecke _____

4 Vierecke _____

9 Quadrate _____

Beim Kevin treffen sich 5 Hunde und
7 Katzen. Wie viele Beine kannst du
zählen?



Zahl	das Vierfache
4	
8	
10	
9	
11	

Zahl	der vierte Teil
16	
28	
12	
36	
24	

x	1	2	3	4	5	6	7	8	9
2									
4									
8									

Was stellst du fest, wenn du alle Mal-
aufgaben gelöst hast? Male gleiche Zahlen
gelb aus!

Name: _____ Datum: _____ Kl. _____ Fach: _____